


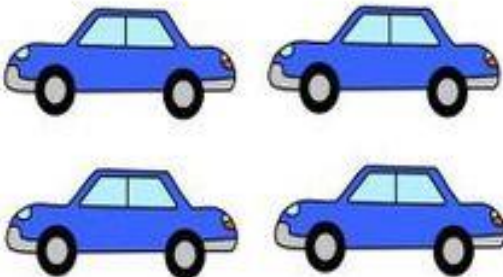
Họ và tên:..... Ngày:.....

## PHƯƠNG TIỆN GIAO THÔNG

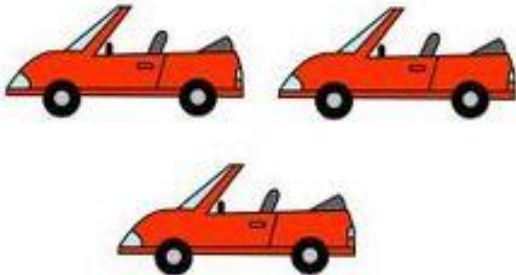
Bé hãy khoanh tròn chữ số tương ứng với số lượng các phương tiện giao thông nhé




1 2 3 4 5




1 2 3 4 5



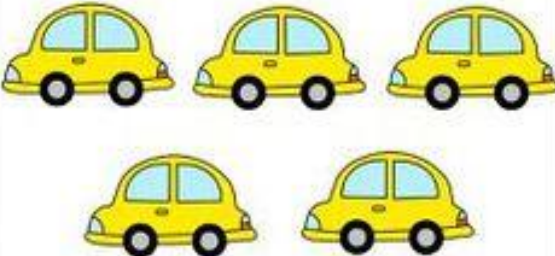
1 2 3 4 5



1 2 3 4 5



1 2 3 4 5



1 2 3 4 5

Họ và tên:..... Ngày:.....

## PHƯƠNG TIỆN GIAO THÔNG

Bé hãy khoanh tròn chữ số tương ứng với số lượng các phương tiện giao thông nhé



1 2 3 4 5

1 2 3 4 5

1 2 3 4 5

1 2 3 4 5

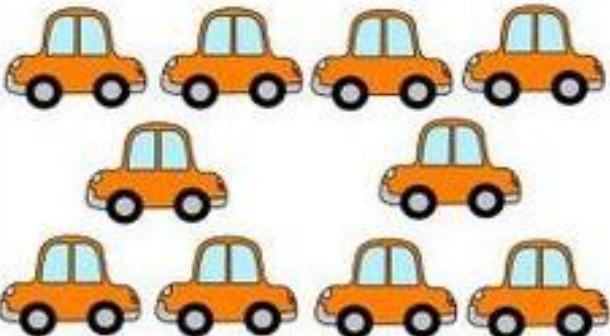
1 2 3 4 5

1 2 3 4 5


Họ và tên:..... Ngày:.....

## PHƯƠNG TIỆN GIAO THÔNG

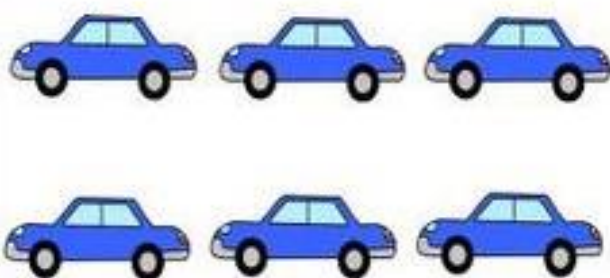
Bé hãy khoanh tròn chữ số tương ứng với số lượng các phương tiện giao thông nhé



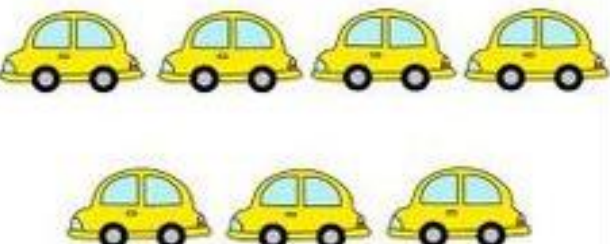
6 7 8 9 10




6 7 8 9 10




6 7 8 9 10



6 7 8 9 10



6 7 8 9 10



6 7 8 9 10

Họ và tên:..... Ngày:.....

## PHƯƠNG TIỆN GIAO THÔNG

Bé hãy khoanh tròn chữ số tương ứng với số lượng các phương tiện giao thông nhé



1    3    2

5    4    3

8    10    9

3    6    4

7    6    8

8    9    10

6    4    5

10    9    8

Họ và tên:..... Ngày:.....

# PHƯƠNG TIỆN GIAO THÔNG

Bé hãy khoanh tròn chữ số tương ứng với số lượng các phương tiện giao thông nhé



3	2	1
---	---	---

4	3	2
---	---	---

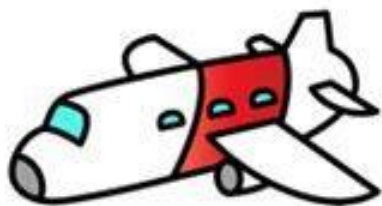
3	5	4
---	---	---

5	4	6
---	---	---

Họ và tên:..... Ngày:.....

## PHƯƠNG TIỆN GIAO THÔNG

Bé hãy khoanh tròn chữ số tương ứng với số lượng các phương tiện giao thông nhé




4 2 3



1 4 3



5 2 1








3 4 1



Họ và tên:..... Ngày:.....

## PHƯƠNG TIỆN GIAO THÔNG








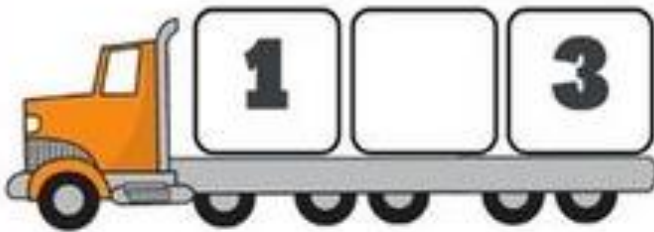
Bé hãy điền chữ số phù hợp vào ô trống trên  
khoảng ô tô nhé



Họ và tên:..... Ngày:.....

## PHƯƠNG TIỆN GIAO THÔNG

Bé hãy điền chữ số phù hợp vào ô trống trên  
khoang ô tô nhé

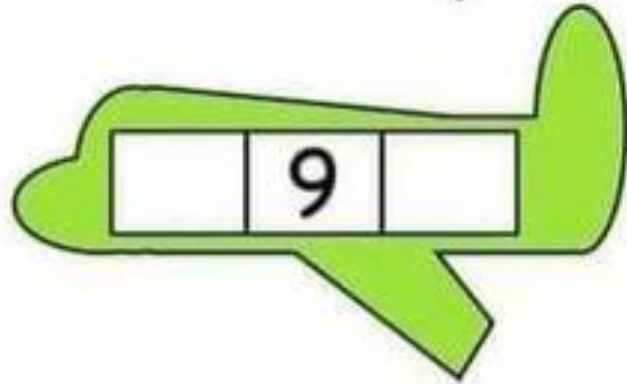
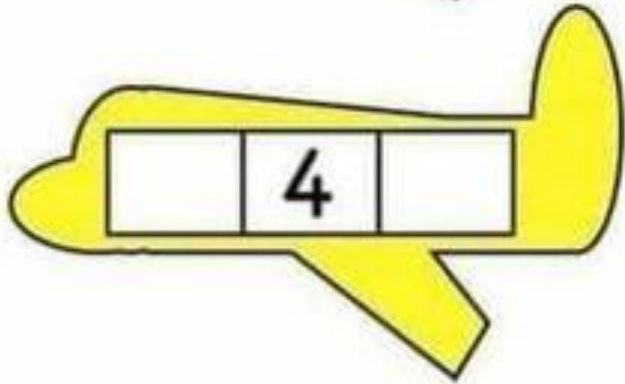

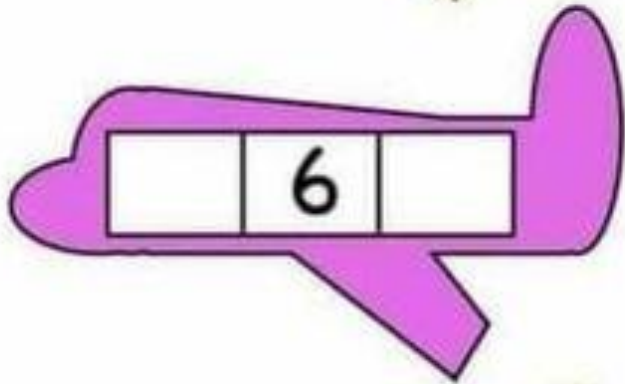
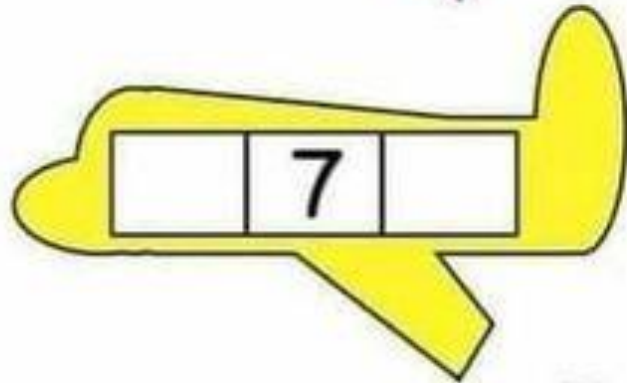
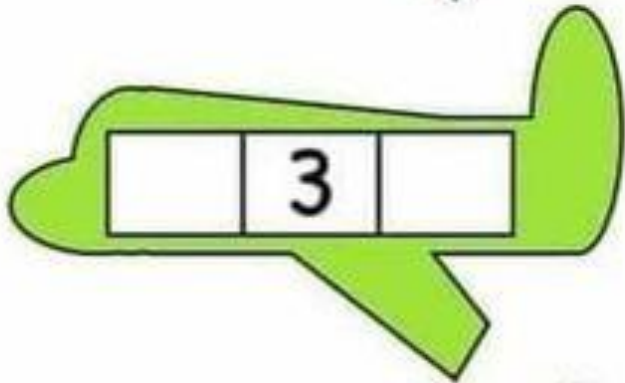
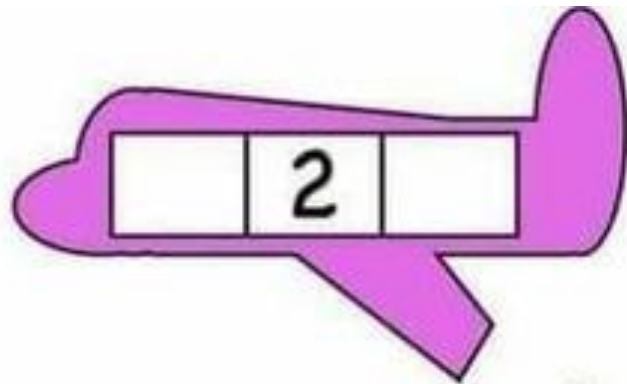
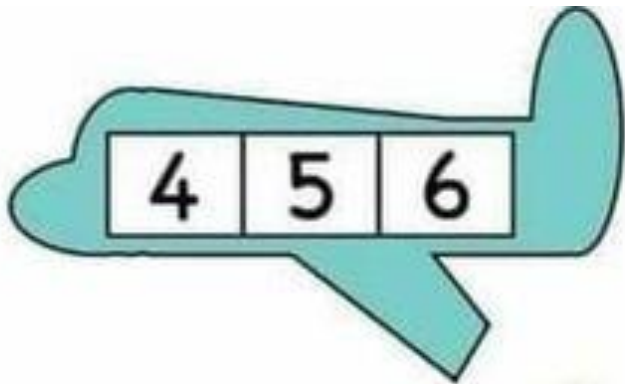




Họ và tên:..... Ngày:.....

## PHƯƠNG TIỆN GIAO THÔNG

Bé hãy điền chữ số phù hợp vào ô trống trên  
không máy bay nhé

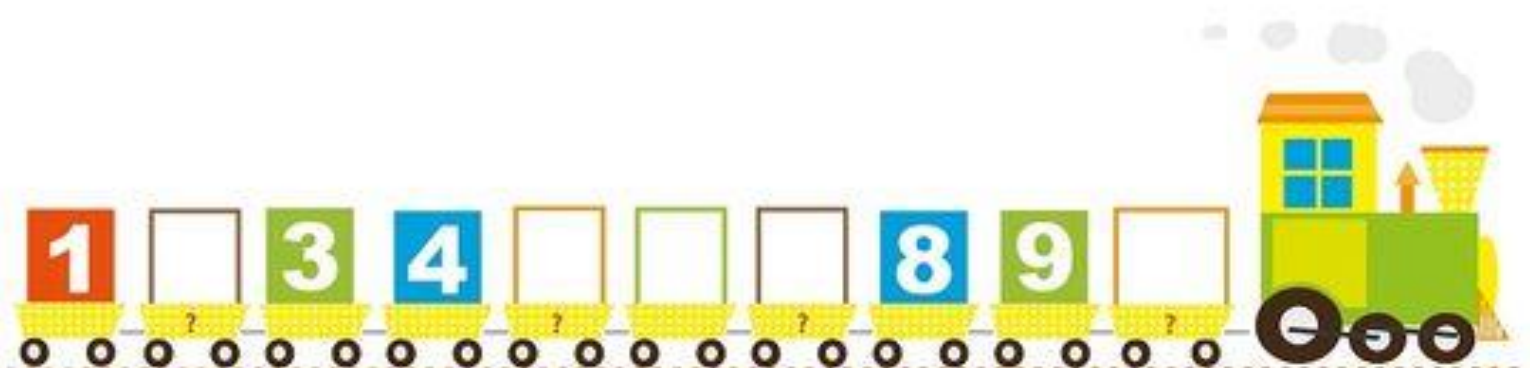



Họ và tên:..... Ngày:.....

## PHƯƠNG TIỆN GIAO THÔNG





Bé hãy điền chữ số còn thiếu vào ô trống trên toa tàu nhé



Họ và tên:..... Ngày:.....

## PHƯƠNG TIỆN GIAO THÔNG

Bé hãy đếm và điền chữ số tương ứng với số lượng các phương tiện giao thông



Họ và tên: ..... Ngày: .....

## PHƯƠNG TIỆN GIAO THÔNG

Bé hãy đếm và điền chữ số tương ứng với số lượng các phương tiện giao thông
















Họ và tên:..... Ngày:.....

## PHƯƠNG TIỆN GIAO THÔNG

Bé hãy tìm và khoanh tròn phương tiện giao thông to hơn nhé



KIDPID.COM

Họ và tên:..... Ngày:.....

# PHƯƠNG TIỆN GIAO THÔNG

Bé hãy tập làm phép tính sau:



$$\begin{array}{|c|} \hline \text{2 school buses} \\ \hline \end{array} + \begin{array}{|c|} \hline \text{2 school buses} \\ \hline \end{array} = \begin{array}{|c|} \hline \\ \hline \end{array}$$

$$\begin{array}{|c|} \hline \text{3 school buses} \\ \hline \end{array} + \begin{array}{|c|} \hline \text{2 school buses} \\ \hline \end{array} = \begin{array}{|c|} \hline \\ \hline \end{array}$$

$$\begin{array}{|c|} \hline \text{1 school bus} \\ \hline \end{array} + \begin{array}{|c|} \hline \text{1 school bus} \\ \hline \end{array} = \begin{array}{|c|} \hline \\ \hline \end{array}$$

$$\begin{array}{|c|} \hline \text{2 school buses} \\ \hline \end{array} + \begin{array}{|c|} \hline \text{1 school bus} \\ \hline \end{array} = \begin{array}{|c|} \hline \\ \hline \end{array}$$

$$\begin{array}{|c|} \hline \text{3 school buses} \\ \hline \end{array} + \begin{array}{|c|} \hline \text{1 school bus} \\ \hline \end{array} = \begin{array}{|c|} \hline \\ \hline \end{array}$$

Họ và tên:..... Ngày:.....

# PHƯƠNG TIỆN GIAO THÔNG

Bé hãy tập làm phép tính sau:



	+		=	
	+		=	
	+		=	

Họ và tên:..... Ngày:.....

# PHƯƠNG TIỆN GIAO THÔNG

Bé hãy khoanh tròn vào đáp án đúng



$(2) + (2)$   
 $=$ 

1	4	3
---	---	---

Thuvienchoimahoc.com

$(2) + (2)$   
 $=$ 

4	1	2
---	---	---

Thuvienchoimahoc.com

$(3) + (1)$   
 $=$ 

2	4	3
---	---	---

Thuvienchoimahoc.com

$(1) + (3)$   
 $=$ 

1	3	4
---	---	---

Thuvienchoimahoc.com



Họ và tên:..... Ngày:.....

# PHƯƠNG TIỆN GIAO THÔNG

Bé hãy khoanh tròn vào đáp án đúng



$\textcircled{1} + \textcircled{1}$   
 $=$ 

2	1	3
---	---	---

Thuvienchoimahoc.com

$\textcircled{2} + \textcircled{1}$   
 $=$ 

1	3	2
---	---	---

Thuvienchoimahoc.com

$\textcircled{1} + \textcircled{2}$   
 $=$ 

3	1	2
---	---	---

Thuvienchoimahoc.com

$\textcircled{1} + \textcircled{1}$   
 $=$ 


1	2	3
---	---	---

Thuvienchoimahoc.com

Họ và tên:..... Ngày:.....

# PHƯƠNG TIỆN GIAO THÔNG


Bé hãy khoanh tròn vào đáp án đúng

$(3) + (2)$   
 $=$ 

1	5	4
---	---	---


Thuvienchoimahoc.com



$(2) + (3)$   
 $=$ 

1	5	2
---	---	---


Thuvienchoimahoc.com



$(1) + (4)$   
 $=$ 

3	4	5
---	---	---

Thuvienchoimahoc.com



$(4) + (1)$   
 $=$ 

5	2	3
---	---	---

Thuvienchoimahoc.com

Họ và tên:..... Ngày:.....

# PHƯƠNG TIỆN GIAO THÔNG

Bé hãy khoanh tròn vào đáp án đúng



① + ②

= 

1	2	3
---	---	---

Thuvienchoimahoc.com

② + ②

= 

4	1	2
---	---	---

Thuvienchoimahoc.com

③ + ①

= 

2	4	3
---	---	---

Thuvienchoimahoc.com

② + ②

= 

1	3	4
---	---	---

Thuvienchoimahoc.com

Họ và tên:..... Ngày:.....

# PHƯƠNG TIỆN GIAO THÔNG

Bé hãy khoanh tròn vào đáp án đúng



$\textcircled{1} + \textcircled{1}$   
 $=$ 

2	1	3
---	---	---

Thuvienchoimahoc.com

$\textcircled{2} + \textcircled{1}$   
 $=$ 

1	3	2
---	---	---

Thuvienchoimahoc.com

$\textcircled{1} + \textcircled{2}$   
 $=$ 

3	1	2
---	---	---

Thuvienchoimahoc.com

$\textcircled{1} + \textcircled{1}$   
 $=$ 





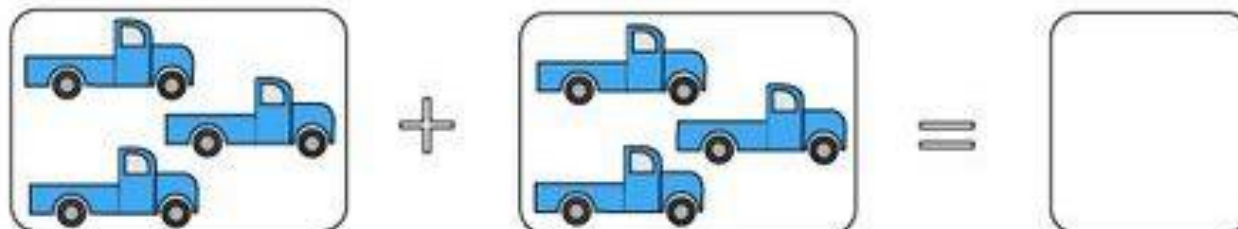

1	2	3
---	---	---

Thuvienchoimahoc.com

Họ và tên:..... Ngày:.....

## PHƯƠNG TIỆN GIAO THÔNG

Bé hãy tập làm phép tính sau:















Họ và tên:..... Ngày:.....

## PHƯƠNG TIỆN GIAO THÔNG

Bé hãy tập làm phép tính sau:



	+		=	
	+		=	
	+		=	
	+		=	




Họ và tên:..... Ngày:.....


## PHƯƠNG TIỆN GIAO THÔNG




Bé hãy khoanh tròn vào chữ số tương ứng với số lượng:



1 2 3 4 5




1 2 3 4 5




1 2 3 4 5



1 2 3 4 5



1 2 3 4 5



1 2 3 4 5



Họ và tên:..... Ngày:.....

# PHƯƠNG TIỆN GIAO THÔNG

Bé hãy đếm và nối chữ số tương ứng:



1

•

•



2

•

•



3

•


•



4

•

•



5

•

•





Họ và tên:..... Ngày:.....

# PHƯƠNG TIỆN GIAO THÔNG

Bé hãy đếm và nối chữ số tương ứng:

